

**PEPERIKSAAN PERCUBAAN SPM 2024**

**TINGKATAN 5**

**BAHASA MELAYU**

**1103/4**

**KERTAS 4**

**30 minit**

---

**PERATURAN PEMARKAHAN  
UJIAN MENDENGAR BAHASA MELAYU**

**PERHATIAN**

Untuk kegunaan pemeriksa.

**PETIKAN 1 - CATATAN PENGALAMAN DI KAMPUNG LONEK**

1 inap desa [1 markah]

2

**PERMAINAN TRADISIONAL KAMPUNG LONEK**

Aktiviti waktu petang

- ❖ Kelereng
- ❖ **Tarik upih pinang**
- ❖ Boling kelapa

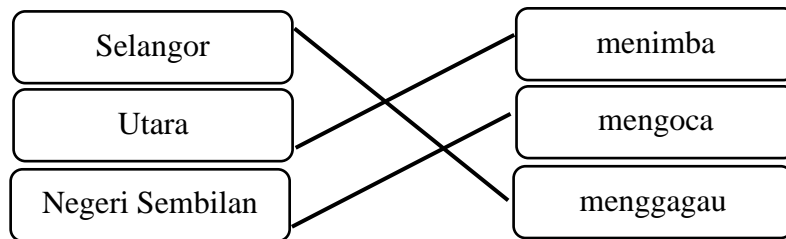






[1 markah]

3



[2 markah]

4 B I, II dan IV [1 markah]


5

(i)	Kampung Lonek menerima lawatan budaya daripada tujuh orang pelajar antarabangsa selama satu hari.	<b>X</b>
(ii)	Permainan tradisional ‘mengoca’ ikan merupakan permainan yang ditunggu-tunggu oleh para pelajar.	<b>X</b>
(iii)	Kuih karas dan kapit dihasilkan di perusahaan kuih tradisional Kampung Lonek.	√


3 jawapan betul	2 markah
2 atau 1 jawapan betul	1 markah

## PETIKAN 2 – RENCANA ROTAVIRUS, VIRUS BAHAYA

1. **roda** [1 markah]
2. **ii) muntah yang teruk / muntah teruk** [1 markah]
3. **B 2 hari** [1 markah]
- 4.




### PENYAKIT ROTAVIRUS



Apakah  
gejala  
penyakit  
ini?

- muntah
- sakit perut
- cirit-birit
- **kelesuan**
- demam



[1 markah]

5.

HASIL KAJIAN	BILANGAN PESAKIT (ORANG)
Rawatan di rumah setiap tahun	14500
Rawatan pesakit luar	<b><u>41000/ empat puluh satu ribu</u></b>
Kemasukan ke hospital	31000
Kematian	27

[1 markah]

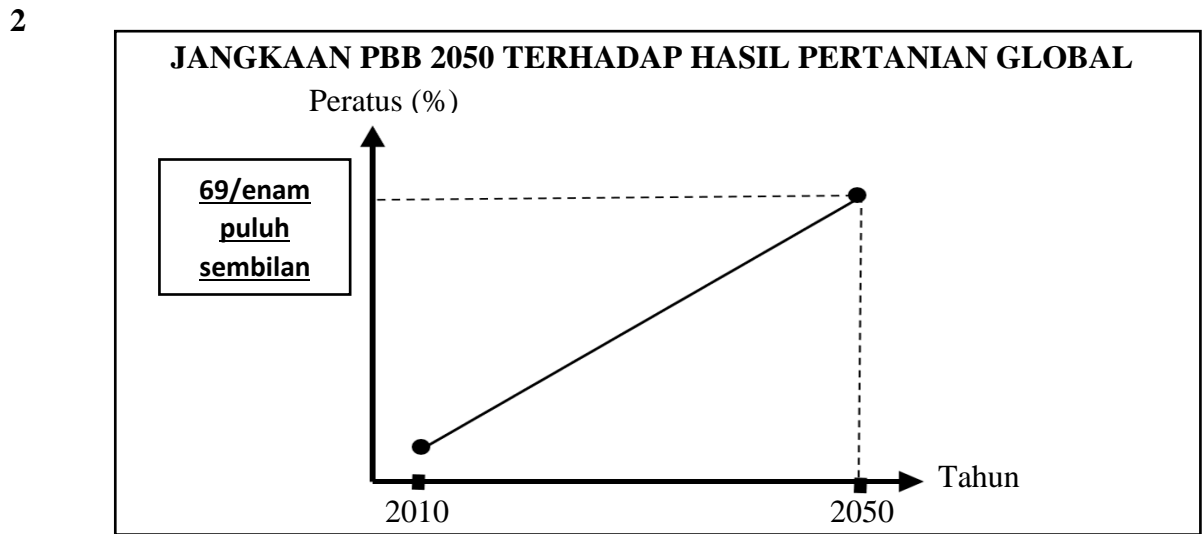
6.

(i)	Kuman Rotavirus akan menjangkiti hampir semua kanak-kanak pada usia 3 hingga 8 tahun.	<b>X</b>
(ii)	Rotavirus menyebabkan hampir 22 peratus hingga 50 peratus daripada kes cirit-birit dalam kalangan kanak-kanak di Malaysia.	√
(iii)	Anak-anak perlu minum air yang cukup apabila menunjukkan tanda-tanda dehidrasi.	<b>X</b>

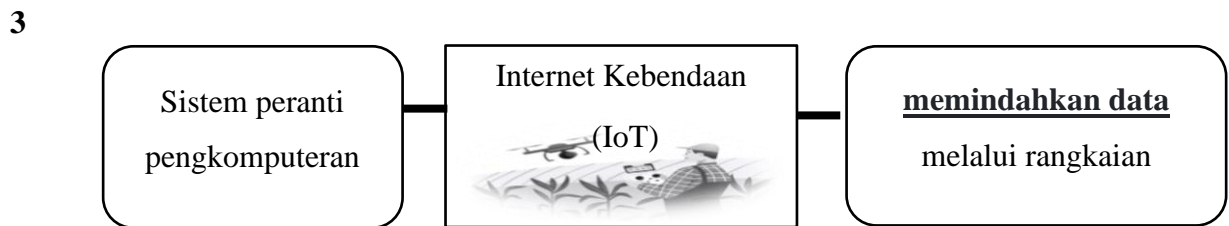
3 jawapan betul	2 markah
2 atau 1 jawapan betul	1 markah

**PETIKAN 3 - RENCANA TEKNOLOGI IoT DALAM PERTANIAN PINTAR**

1 **8 / lapan** [1 markah]



[1 markah]



[1 markah]



[1 markah]

5 **D** data pemantauan automasi [1 markah]

6 **B** I, II dan IV [1 markah]

7

(i)	Demi produktiviti yang lebih baik, industri pertanian beralih menggunakan Internet Kebendaan (IoT).	BETUL	√
		SALAH	
(ii)	Jumlah data yang dikumpulkan menjadi keperluan penting dalam transformasi perniagaan.	BETUL	
		SALAH	√

[2 markah]

**PETIKAN 4 - BERITA PAMERAN IMMERSIO DI MUZIUM TELEKOM**

1      **7 Januari 2024/ 7.1.2024** [1 markah]

2



[1 markah]

3      (i) lebih daripada 20 artis kebudayaan dan **media baharu** [1 markah]

4      **B** jalinan [1 markah]

5      **A** I, II dan III [1 markah]

6



[1 markah]

7

(i)	Pameran IMMERSIO 2023 yang diadakan telah mentransformasikan Muzium Telekom.	√
(ii)	Barisan artis yang dinamik iaitu Kurator IMMERSIO 2023 ditampilkan dalam pameran IMMERSIO 2023.	X
(iii)	Tiket pameran IMMERSIO 2023 boleh didapati di laman sesawang oleh pengunjung yang berminat untuk melihat pameran tersebut.	√

3 jawapan betul	2 markah
2 atau 1 jawapan betul	1 markah